

ACTIVIDADES DE RECUPERACIÓN FINAL HISTÓRICO

Observa la siguiente imagen y resuelve cada pregunta.

Comienzo

¿Cuántos mares tiene Colombia? **16**

¿Qué productos exportamos a otros países? **16**

¿Cuál es el pulmón de Colombia? **16**

Cuida los animales **10**

¿Cuides los recursos naturales de nuestro país? **16**

¿Cuides los recursos naturales de nuestro país? **16**

No arrojes basura a la calle **10**

¿Qué podrías hacer para cuidar el agua? **16**

¿Qué actividades humanas destruyen el ecosistema marino? **16**

Cuida la vegetación **10**

¿Qué países limitan con el nuestro? **16**

¿Qué harías para ayudar a salvar los ríos? **16**

Ama a tu país **10**

¿En qué lugares no debemos botar las basuras? **16**

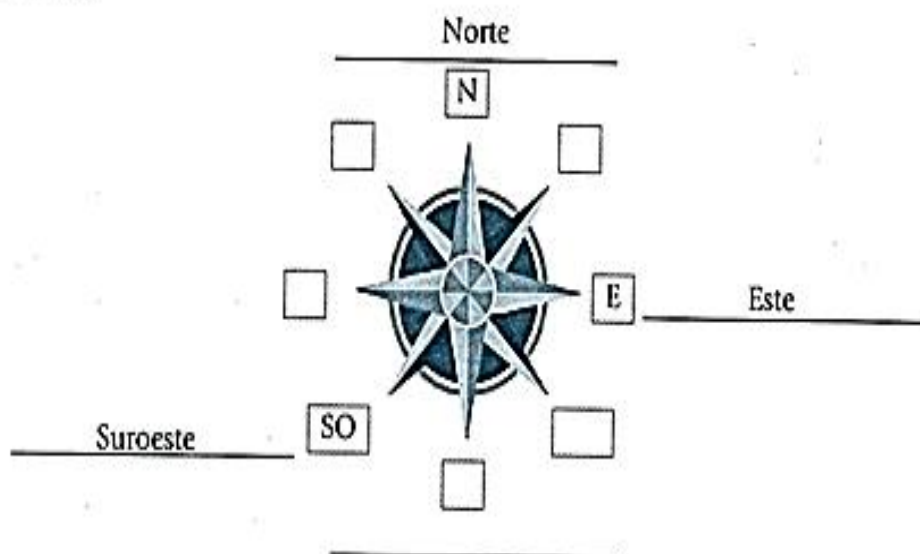
¿Cuál es el mineral más común en Colombia? **16**

Total 200 puntos

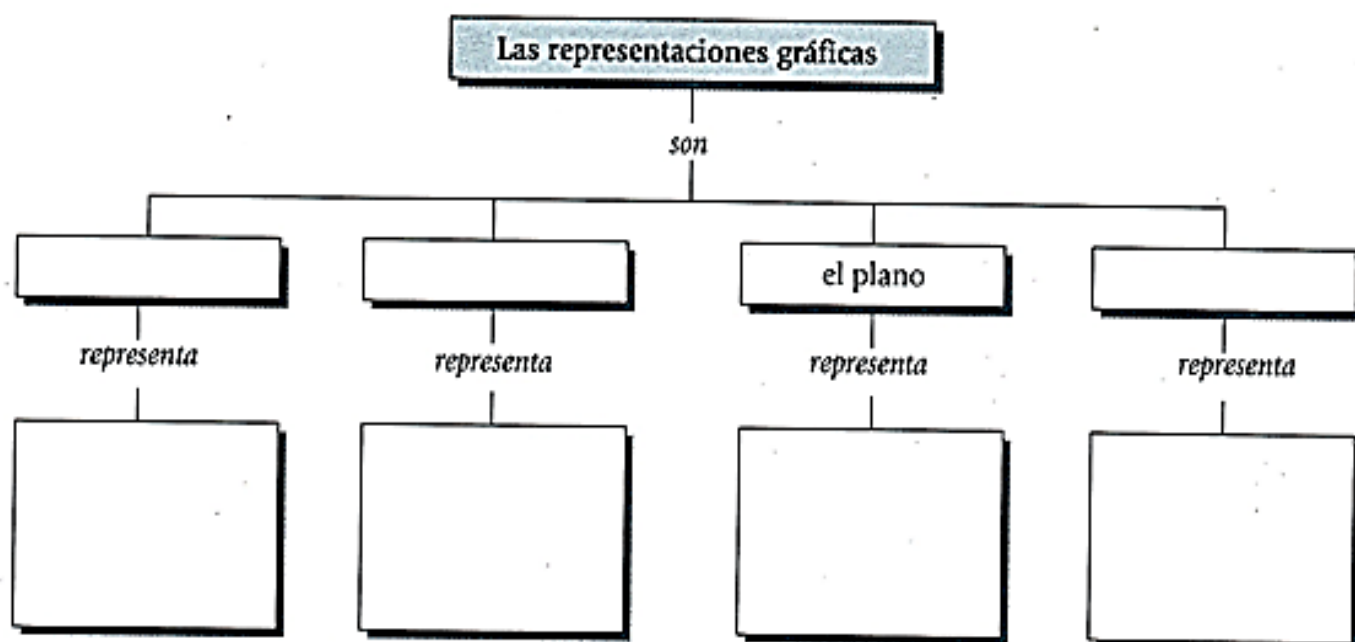
Meta

¡Buena suerte!

1. Observa la rosa de los vientos. Luego, escribe los símbolos y nombres de los puntos cardinales que hacen falta.



2. Completa el siguiente esquema.



3. Relaciona cada producto con el piso térmico al que corresponde.



4. Completa la siguiente ficha del lugar donde vives.


Nombre del lugar: _____

Piso térmico: _____
Temperatura media: _____
Vegetación: _____


Fauna: _____

Productos agrícolas: _____


5. Dibuja las señales de tránsito que se indican.



Pare



Zona escolar



Prohibido girar a la derecha

6. Escribe tres semejanzas y tres diferencias entre un paisaje rural y un paisaje urbano.

Semejanzas	Diferencias
1	
2	
3	

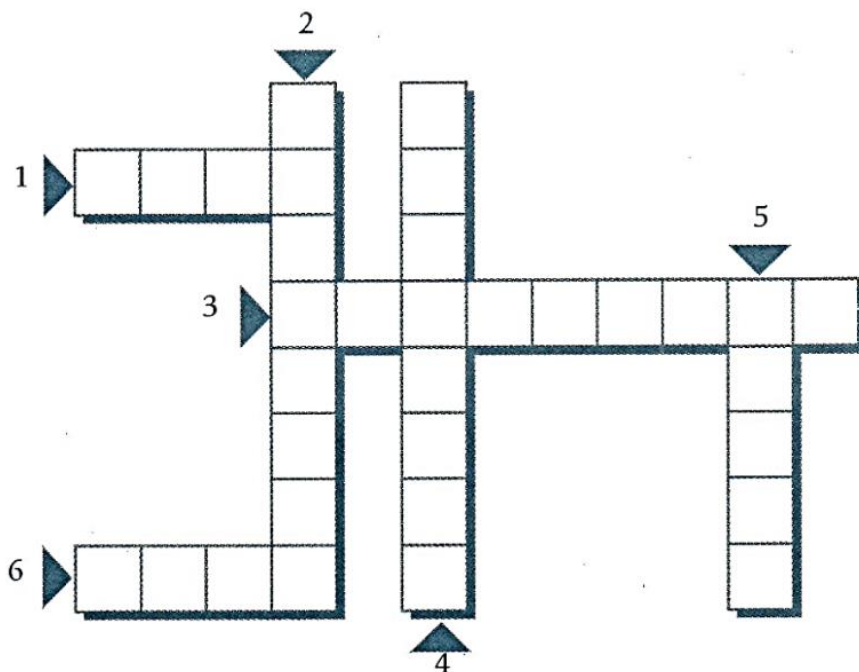
7. Colorea en el mapa las regiones naturales de Colombia de acuerdo con la clave.

CLAVE	
Región Andina	Verde
Región Caribe	Amarillo
Región Pacífica	Rojo
Región de la Orinoquia	Naranja
Región de la Amazonia	Lila
Región Insular	Marrón



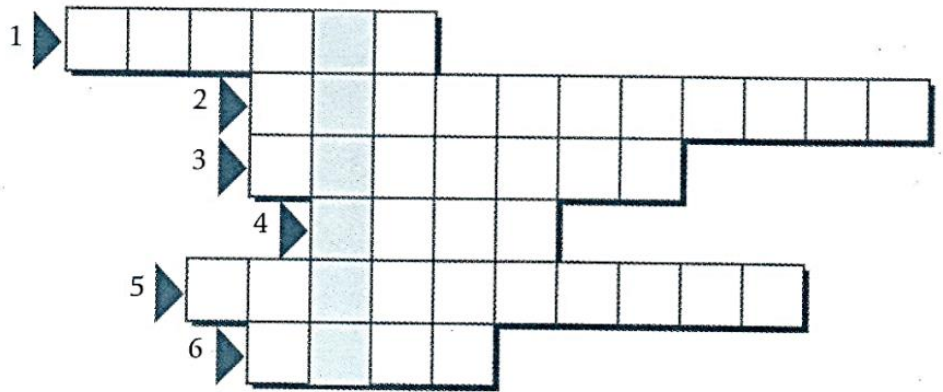
8. Resuelve el crucigrama.

1. En este departamento se celebra el Festival Internacional del Joropo.
2. La explotación petrolera de Cusiana y de Cupiagua quedan en este departamento.
3. Barranquilla es la capital de este departamento.
4. Capital del departamento de Antioquia.
5. Departamento productor de oro.
6. Principal producto agrícola de Colombia.



9. Completa el palabragrama.

1. Nombre del estrecho por donde se cree entraron los primeros habitantes de Colombia.
2. Acción de poblar.
3. A este continente llegaron grupos de asiáticos hace millones de años.
4. Lugar de donde se cree que proceden los primeros habitantes de América.
5. Grupo de personas que vive en un mismo lugar.
6. Principal cultivo de los muiscas.



10. Observa la imagen y, luego, selecciona la respuesta correcta.

La escena corresponde a:

- La etapa nómada
- La etapa sedentaria
- El cacicazgo



- Explica tu respuesta.

11. Completa el siguiente esquema.

